




# Prova



## CONCURSO PÚBLICO GUARDA MUNICIPAL DE SÃO LUÍS - MA

EDITAL Nº 002/PMSL/2022

### Guarda Municipal Músico de 2ª Classe

Duração: 04h00min (quatro)

Leia atentamente as instruções abaixo:

01 Você recebeu do fiscal o seguinte material:

a) Este caderno, com 80 (oitenta) questões da Prova Objetiva, sem repetição ou falha, conforme distribuição abaixo:

LÍNGUA PORTUGUESA	RACIOCÍNIO LÓGICO E MATEMÁTICO	NOÇÕES DE LEGISLAÇÃO BÁSICA	INFORMÁTICA BÁSICA	CONHECIMENTOS ESPECÍFICOS	CONHECIMENTOS SOCIOCULTURAIS E GEOGRÁFICOS DE SÃO LUÍS-MA
1 a 15	16 a 25	26 a 35	36 a 40	41 a 70	71 a 80

b) Um Cartão de Respostas destinado às respostas das questões objetivas.

- 02 Verifique se este material está em ordem e se o seu nome e número de inscrição conferem com os que aparecem no Cartão de Respostas. Caso contrário, notifique imediatamente o fiscal.
- 03 Após a conferência, o candidato deverá assinar no espaço próprio do Cartão de Respostas, com caneta esferográfica de tinta na cor azul ou preta.
- 04 No Cartão de Respostas, a marcação da alternativa correta deve ser feita cobrindo a letra correspondente ao número da questão e preenchendo todo o espaço interno, com caneta esferográfica de tinta na cor azul ou preta, de forma contínua e densa.

Exemplo:  A  B  C  D  E

- 05 Para cada uma das questões objetivas, são apresentadas 5 (cinco) alternativas classificadas com as letras (A, B, C, D e E), mas só uma responde adequadamente à questão proposta. Você só deve assinalar uma alternativa. A marcação em mais de uma alternativa anula a questão, mesmo que uma das respostas esteja correta.
- 06 Somente depois de decorrida 01 (uma) hora do início da prova, o candidato poderá entregar seu Cartão de Respostas, seu Caderno de Questões e retirar-se da sala de prova. O candidato que insistir em sair da sala de prova, descumprindo o aqui disposto, deverá assinar o Termo de Ocorrência declarando sua desistência do Concurso, que será lavrado pelo Coordenador do Local.
- 07 Ao candidato, será permitido levar seu CADERNO DE QUESTÕES a partir de 01 (uma) hora para o término da prova e desde que permaneça em sala até esse momento.
- 08 Não será permitida a cópia de gabarito no local de prova. Ao terminar a prova, o candidato entregará, obrigatoriamente, ao fiscal de sala, o seu CARTÃO DE RESPOSTAS e o seu CADERNO DE QUESTÕES, ressalvado o estabelecido no item 7.
- 09 Reserve os 30 (trinta) minutos finais para marcar seu Cartão de Respostas. Os rascunhos e as marcações assinaladas no Caderno de Questões não serão levados em consideração.
- 10 Os 3 (três) últimos candidatos permanecerão sentados até que todos concluem a prova ou que termine o seu tempo de duração, devendo assinar a ata de sala e retirar-se juntos.

Transcreva a frase abaixo para o quadro “Exame Grafotécnico” do seu Cartão de Respostas  
“A guarda municipal é patrimônio do povo.”

## LÍNGUA PORTUGUESA

### O exercício que faz você resistir às guloseimas

A parte mais difícil da dieta muitas vezes não é comer o que faz bem... Mas resistir aos “alimentos proibidos”. Difícil, né? Mas um estudo mostra que talvez você possa contar com uma forcinha extra pra isso.

Pode até parecer estranho, mas pesquisadores da *Washington State University* fizeram ratos de laboratório terem foco na dieta. É sério! Os animais ficaram por um tempo recebendo um alimento rico em gordura ruim sempre que acionavam uma alavanca. Junto com o alimento, eles ouviam um som específico e uma luz era acesa.

Então, os ratos foram separados em 2 grupos durante 1 mês. Nesse tempo, eles não tinham mais o “fast food” disponível, e enquanto o grupo 1 não fez nada, o grupo 2 passou a fazer exercícios intensos.

Depois desse período, eles puderam novamente acionar a alavanca em busca de comida... Mas dessa vez o alimento não vinha, só a luz e o som. O interessante é que os ratinhos “sedentários” ficaram simplesmente loucos pra conseguir comer, apertando a alavanca desesperadamente. Já aqueles que fizeram os exercícios intensos até buscaram pela comida. Mas quando não ganharam, logo perderam o interesse.

Pois é. Os exercícios intensos reduziram a vontade de buscar alimentos ruins! Bom, é claro que você não é um rato de laboratório, mas os pesquisadores afirmam que com os humanos pode ocorrer algo parecido. E a boa notícia é que se você procura uma “pílula mágica” pra reduzir sua vontade de devorar guloseimas pouco saudáveis... Acaba de encontrar: atividades físicas intensas!

#### Qual atividade fazer?

Quando falamos em atividades físicas intensas, as melhores são as que duram menos tempo mas exigem mais do seu corpo. É por isso que sempre indico o exercício supra aeróbico, de apenas 20 minutos, que explico no meu livro *20 Minutos e Emagreça*.

Trata-se de uma atividade na qual você intercala segundos de atividade muito intensa com algum período de descanso. Esse tipo de atividade estimula a produção do hormônio do crescimento, promove emagrecimento, ganho de massa magra, melhora da parte pulmonar, do desempenho sexual, da saúde cardíaca e reduz rugas.

#### Reduzindo seu desejo por comida ruim

Agora eu tenho outra dica para controlar o seu desejo por alimentos ruins. Coma gorduras.

Sim, você pode achar que eu estou ficando maluco, mas é isso mesmo. É claro que é preciso saber como fazer e o que fazer. Estou falando de uma dieta keto, na qual as gorduras naturais boas viram sua principal fonte de energia.

Essas gorduras são aquelas vindas de animais criados a pasto, como banha de porco e manteiga... E gorduras de origem vegetal, como o óleo de coco e azeite de oliva, por exemplo. Junte proteínas em quantidades moderadas, muitas verduras e legumes e corte o carboidrato a virtualmente zero.

Wilson Rondó Jr. (Adaptado)

Texto publicado em 18 de julho de 2022

Fonte: <https://www.jb.com.br/colonistas/saude-e-alimentacao/2022/07/1038649-o-exercicio-que-faz-voce-resistir-as-guloseimas.html>

1. “Depois desse período, eles **puderam** novamente acionar a alavanca em busca de comida” (4º parágrafo). A forma verbal sublinhada está no mesmo modo e tempo da palavra destacada em:

- A) As pessoas **chegavam** tarde ao trabalho.
- B) As pessoas **chegaram** tarde ao trabalho.
- C) As pessoas **chegariam** tarde ao trabalho.
- D) As pessoas **chegarão** tarde ao trabalho.
- E) As pessoas **chegam** tarde ao trabalho.

2. “Então, os ratos foram separados em 2 grupos durante 1 mês. Nesse tempo, **eles** não tinham mais o ‘fast food’ disponível, e enquanto o grupo 1 não fez nada, o grupo 2 passou a fazer exercícios intensos” (3º parágrafo). O pronome destacado cumpre a função de substituir o termo:

- A) ratos
- B) separados
- C) grupos
- D) exercícios
- E) seres humanos

3. “Depois desse período, eles puderam novamente acionar a alavanca em busca de comida... Mas dessa vez o alimento não vinha, **só** a luz e o som” (4º parágrafo). A palavra destacada, que estabelece um tipo de restrição, pode ser considerada um(a):

- A) preposição
- B) conjunção
- C) pronome
- D) verbo
- E) advérbio

4. “**Quando** falamos em atividades físicas intensas, as melhores são as que duram menos tempo **mas** exigem mais do seu corpo” (6º parágrafo). Neste trecho, as duas conjunções indicam respectivamente as noções de:

- A) tempo e concessão
- B) tempo e oposição
- C) proporção e concessão
- D) proporção e oposição
- E) tempo e proporção

5. De acordo com o autor do texto, para uma boa dieta, deve-se:

- A) consumir poucos alimentos em geral
- B) consumir somente gorduras de origem natural
- C) praticar exercícios físicos de grande, médio e pequeno esforço
- D) intercalar exercícios físicos com consumo de alimentos diversos
- E) intercalar exercícios físicos com consumo de gorduras de origem natural

6. “Mas quando não ganharam, **logo** perderam o interesse” (4º parágrafo). A palavra “logo” pode ter vários sentidos em língua portuguesa. No trecho destacado, o sentido é de:

- A) causa
- B) conclusão
- C) oposição
- D) tempo
- E) consequência

7. “Os animais ficaram por um tempo recebendo um alimento rico em gordura ruim sempre que **acionavam** uma alavanca” (2º parágrafo). No texto, o verbo destacado faz referência a:

- A) pessoas
- B) animais
- C) alimentos
- D) gorduras
- E) alavancas

8. “As palavras paroxítonas terminadas em -r, -l, -n, -x e -ps são acentuadas”. Essa regra de acentuação está devidamente aplicada na palavra:

- A) difícil
- B) armazéns
- C) espécimen
- D) fúlgidos
- E) óxidos

9. Leia o trecho a seguir: “**Junto com** o alimento, eles ouviam um som específico e uma luz era acesa” (2º parágrafo). A expressão destacada, no texto, tem o sentido de:

- A) proporção
- B) comparação
- C) proximidade
- D) semelhança
- E) oposição

10. O texto acima foi publicado em jornal de grande circulação nacional, normalmente marcado pela linguagem formal. Contudo, há alguns trechos marcados pela informalidade na linguagem. Um desses trechos é o seguinte:

- A) “A parte mais difícil da dieta muitas vezes não é comer o que faz bem...” (1º parágrafo).
- B) “Então, os ratos foram separados em 2 grupos durante 1 mês” (3º parágrafo).
- C) “Os exercícios intensos reduziram a vontade de buscar alimentos ruins!” (5º parágrafo).
- D) “Sim, você pode achar que eu estou ficando maluco, mas é isso mesmo.” (8º parágrafo).
- E) “Essas gorduras são aquelas vindas de animais criados a pasto, como banha de porco e manteiga...” (9º parágrafo)

11. “Acaba de encontrar: atividades físicas intensas!” (5º parágrafo). Neste trecho, o uso do ponto de exclamação serve para indicar:

- A) ordem
- B) pedido
- C) súplica
- D) dúvida
- E) surpresa

12. “**Esse** tipo de atividade estimula a produção do hormônio do crescimento” (7º parágrafo). O pronome destacado serve para fazer referência a outro elemento citado anteriormente no texto. Segundo a gramática normativa, esse pronome classifica-se como:

- A) pessoal
- B) relativo
- C) indefinido
- D) possessivo
- E) demonstrativo

13. “E a boa notícia é que se você procura uma ‘pílula mágica’ pra reduzir sua vontade de devorar guloseimas pouco saudáveis...” (5º parágrafo). Nesse trecho, a expressão “pílula mágica” foi usada entre aspas para designar que o sentido é:

- A) falso
- B) formal
- C) figurado
- D) referencial
- E) controverso

14. “Agora eu tenho outra dica para controlar o seu desejo por alimentos ruins. **Coma gorduras.**

Sim, você pode achar que eu estou ficando maluco, mas é isso mesmo” (8º parágrafo). O trecho destacado indica uma ordem. Logo, esse trecho pode ser classificado como:

- A) narrativo
- B) descritivo
- C) dissertativo
- D) argumentativo
- E) injuntivo

15. “**Junte** proteínas em quantidades moderadas, muitas verduras e legumes e  **corte** o carboidrato a virtualmente zero”. (9º parágrafo). Neste trecho, há verbos que indicam ordem ou conselho. Esses verbos estão no:

- A) presente do indicativo
- B) presente do subjuntivo
- C) futuro do subjuntivo
- D) imperativo afirmativo
- E) futuro do presente do indicativo

### RACIOCÍNIO LÓGICO E MATEMÁTICO

16. Para um grupo de 180 pessoas, foram oferecidas duas palestras sobre segurança pública. A tabela a seguir mostra o número de inscritos nessas palestras:

PALESTRA	Número de inscritos
A	93
B	127
A e B	45

O número de pessoas que não se inscreveram em nenhuma das duas palestras corresponde a:

- A) 1
- B) 2
- C) 3
- D) 4
- E) 5

17. É verdade que todos os amigos de Carlos gostam de Matemática. Logo, é necessariamente verdade que:

- A) Se Pedro não é amigo de Carlos, então ele gosta de Matemática
- B) Se Pedro gosta de Matemática, então ele é amigo de Carlos.
- C) Se Pedro não é amigo de Carlos, então ele não gosta de Matemática
- D) Se Pedro não gosta de Matemática, então ele não é amigo de Carlos
- E) Se Pedro gosta de Matemática, então ele não é amigo de Carlos

18. A proposição “Na próxima copa do mundo, o Brasil será campeão ou não será campeão” representa, do ponto de vista lógico, uma:

- A) tautologia
- B) contradição
- C) equivalência
- D) contingência
- E) condicional

19. Observe a sequência de pares ordenados a seguir:

{(4, 6), (3, 4), (7, 4), (10, 3), (8, 4), (5, x)}.

Nesta sequência, o segundo elemento de cada par foi obtido a partir do primeiro elemento do par, segundo um determinado padrão. Se esse padrão foi mantido no sexto par, o valor de x é:

- A) 4
- B) 5
- C) 6
- D) 7
- E) 8

20. Considere que a probabilidade de Pedro ser aprovado em um concurso público é de 90% e que a probabilidade de João ser aprovado no mesmo concurso é de 60%. Sabendo que a aprovação de um candidato independe da aprovação do outro, a probabilidade de que nenhum dos dois seja aprovado é de:

- A) 3%
- B) 4%
- C) 5%
- D) 6%
- E) 7%

21. N guardas municipais foram distribuídos em três grupos de trabalho, de modo que o primeiro grupo possuísse dois guardas a menos que o segundo, e que o terceiro possuísse dois guardas a mais do que o segundo.

Se N é um número maior do que 99 e menor do que 105, o segundo grupo é formado pela seguinte quantidade de guardas:

- A) 30
- B) 31
- C) 32
- D) 33
- E) 34

22. De uma lista que contém o nome de 10 guardas, o comandante da Guarda Municipal de São Luís selecionou 3 deles para formar uma equipe de trabalho. A quantidade máxima de equipes diferentes que podem ser formadas é igual a:

- A) 120
- B) 130
- C) 140
- D) 150
- E) 160

23. Renata dispõe de apenas dois lápis de cor, um azul (A) e outro vermelho (V), para pintar a figura a seguir, formada por 8 quadradinhos.



Considere que, nessa pintura, cada quadradinho deve ser inteiramente pintado por apenas uma cor e que cada cor deve ser usada pelo menos uma vez.

Veja, a seguir, exemplos de três pinturas possíveis:



A quantidade máxima de pinturas distintas que Renata pode fazer é igual a:

- A) 128
- B) 192
- C) 216
- D) 254
- E) 280

24. Em um jogo de futebol, 50% do público presente no estádio eram torcedores do time A, 35% eram torcedores do time B, e os 1950 torcedores restantes não torciam para nenhum deles.

O total do público presente no estádio correspondia ao seguinte número de pessoas:

- A) 12 000
- B) 12 500
- C) 13 000
- D) 13 500
- E) 14 000

25. A negação da afirmação “Paulo é um guarda municipal e São Luís é uma linda cidade” é:

- A) Paulo é um guarda municipal ou São Luís é uma linda cidade
- B) Ou Paulo é um guarda municipal ou São Luís é uma linda cidade
- C) Paulo não é um guarda municipal ou São Luís não é uma linda cidade
- D) Paulo não é um guarda municipal e São Luís não é uma linda cidade
- E) Paulo não é um guarda municipal e São Luís é uma linda cidade

### NOÇÕES DE LEGISLAÇÃO BÁSICA

26. Suponha que determinado indivíduo, nos fundos de sua residência, importa, prepara e armazena diversas drogas ilícitas para vender a terceiros, sem autorização e/ou em desacordo com determinação legal ou regulamentar.

À luz da Lei nº 11.343/2006 (Lei de Drogas), a referida conduta se configura crime apenado com:

- A) detenção, de 1 (um) a 3 (três) anos, e multa de 100 (cem) a 300 (trezentos) dias-multa
- B) reclusão, de 3 (três) a 10 (dez) anos, e pagamento de 700 (setecentos) a 1.200 (mil e duzentos) dias-multa
- C) reclusão, de 2 (dois) a 6 (seis) anos, e pagamento de 300 (trezentos) a 700 (setecentos) dias-multa
- D) reclusão, de 5 (cinco) a 15 (quinze) anos, e pagamento de 500 (quinhentos) a 1.500 (mil e quinhentos) dias-multa
- E) detenção, de 6 (seis) meses a 1 (um) ano, e pagamento de 700 (setecentos) a 1.500 (mil e quinhentos) dias-multa.

27. Determinado cidadão possui comércio clandestino em sua residência, em que vende arma de fogo, acessório ou munição, sem autorização legal ou regulamentar.

Segundo a Lei nº 10.826/2003, conhecida como o Estatuto do Desarmamento, a conduta acima descrita configura crime de:

- A) disparo de arma de fogo, apenado apenas com multa na forma da lei
- B) disparo de arma de fogo, apenado apenas com reclusão na forma da lei
- C) comércio ilegal de arma de fogo, apenado com reclusão e multa na forma da lei
- D) porte ilegal de arma de fogo de uso permitido, apenado com reclusão e multa na forma da lei
- E) extorsão qualificada, apenada com reclusão e multa na forma da lei

28. Um grupo de policiais, com o propósito de obter informações de um detento sobre uma terceira pessoa supostamente envolvida em um delito, submete-o a socos e pontapés. Como consequência, o detento é acometido de sofrimento físico e mental.

A conduta policial acima descrita, à luz da Lei nº 9.455/1997, configura-se como crime de:

- A) posse
- B) tortura
- C) sequestro
- D) estupro de vulnerável
- E) extorsão qualificada pela restrição da liberdade da vítima



**29.** A Lei nº 13.022/2014, que dispõe sobre o Estatuto Geral das Guardas Municipais, dentre os princípios mínimos de atuação das guardas municipais, estabelece:

- A) zelar pelos bens, equipamentos e prédios públicos do Município
- B) cooperar com os demais órgãos de defesa civil em suas atividades
- C) auxiliar na segurança de grandes eventos e na proteção de autoridades e dignatários
- D) proteger os direitos humanos fundamentais, o exercício da cidadania e as liberdades públicas
- E) desenvolver ações de prevenção primária à violência, isoladas ou em conjunto com os demais órgãos da própria municipalidade, de outros municípios ou das esferas estadual e federal

**30.** O Sistema Único de Segurança Pública (SUSP), instituído pela Lei nº 13.675/2018, tem como órgão central o Ministério Extraordinário da Segurança Pública.

À luz da Lei nº 13.675/2018, são considerados integrantes estratégicos do SUSP:

- A) a Polícia Federal e a Polícia Rodoviária Federal
- B) as polícias civis, as polícias militares e os corpos de bombeiros militares
- C) a União, o Distrito Federal, os estados e os municípios, por intermédio dos respectivos Poderes Judiciários
- D) a União, o Distrito Federal, os estados e os municípios, por intermédio dos respectivos Poderes Legislativos
- E) a União, o Distrito Federal, os estados e os municípios, por intermédio dos respectivos Poderes Executivos e os Conselhos de Segurança Pública e Defesa Social dos três entes federados

**31.** Suponha que um grupo de invasores, motivado por intolerância étnica e/ou racial, tentou exterminar uma comunidade quilombola localizada em certa região do Brasil por meio do uso de facões e algumas armas de fogo. Contudo, não obteve êxito em sua tentativa de ação genocida graças à intervenção de alguns guardas florestais, que se encontravam próximos do local e atiraram, de longe e para o alto, com o intuito de afugentá-los.

Com base na Lei nº 8.072/1990, o evento descrito acima se enquadra como crime (de):

- A) hediondo
- B) estupro de vulnerável
- C) epidemia com resultado de morte
- D) furto qualificado pelo emprego de explosivo
- E) latrocínio qualificado pelo emprego de arma de fogo

**32.** Uma investigação policial, ao apurar fatos oriundos de denúncias anônimas, obteve provas no sentido de identificar um indivíduo que fornece inúmeras armas de fogo, munição e explosivo, de forma gratuita, para um grupo de crianças e de adolescentes, moradores de certa região do Município Y. De acordo com o Estatuto da Criança e do Adolescente, Lei nº 8.069/90, essa conduta configura crime com pena de:

- A) reclusão de 3 (três) a 6 (seis) anos
- B) reclusão de 1 (um) a 3 (três) anos, além de multa
- C) detenção de 6 (seis) meses a 2 (dois) anos, além de multa
- D) detenção de 2 (dois) a 4 (quatro) anos, além de multa, se o fato não constitui crime mais grave
- E) detenção de 2 (dois) a 6 (seis) anos, além de multa, se o fato não constitui crime mais grave

**33.** A Lei nº 13.869/2019 disciplina os crimes de abuso de autoridade. Nos moldes previstos pela referida lei, considera-se como sujeito ativo qualquer agente público, exceto:

- A) os servidores públicos militares
- B) os membros do Poder Executivo
- C) os membros do Poder Judiciário
- D) os membros do Poder Legislativo
- E) os ex-prefeitos municipais e ex-governadores

**34.** Um criminoso, de forma isolada, vende armas e munições a terceiros, sem a devida permissão, licença ou autorização da autoridade competente, em locais próximos a determinadas cidades fronteiriças do país.

Com base na Lei nº 12.850/2013, a qual, entre outras providências, estabelece normas relativas à organização criminosa, afirma-se que a situação acima descrita:

- A) se enquadra como organização criminosa
- B) se enquadra como captação urbana e ambiental de sinais eletromagnéticos, ópticos ou acústicos
- C) não se enquadra como organização criminosa, em razão da ausência de associação de pessoas
- D) não se enquadra como organização criminosa, em razão de motivo torpe ou fútil presente na conduta do criminoso
- E) se enquadra como concurso de funcionário público, valendo-se a organização criminosa dessa condição para a prática de infração penal

**35.** Suponha que um grupo de caçadores ingresse em uma floresta de preservação permanente com o objetivo de matar, perseguir, caçar, apanhar, utilizar espécimes da fauna silvestre, nativos ou em rota migratória, sem a devida permissão, licença ou autorização da autoridade competente.

Dentre os tipos de crimes ambientais classificados pela Lei nº 9.605/98, a conduta acima descrita se enquadra como espécie de crime contra a (o):

- A) flora
- B) fauna
- C) saúde humana
- D) patrimônio cultural
- E) administração ambiental

## INFORMÁTICA BÁSICA

**36.** No que diz respeito à internet e à computação gráfica, pode-se: (i) acionar uma tecla de função específica, no browser *Google Chrome*, para navegar em sites na modalidade tela cheia; (ii) observar a extensão do nome do arquivo para identificar formatos de áudio, vídeo e imagens.

A tecla de função específica descrita em (i) e as três extensões de arquivo que nos permitem identificar áudio, vídeo e imagem descritas em (ii) são, respectivamente:

- A) (i) F10; (ii) MP3, JPG e SCR
- B) (i) F11; (ii) MP3, MP4 e PNG
- C) (i) F10; (ii) MP3, JPG e SCR
- D) (i) F11; (ii) PDF, MP4 e SCR
- E) (i) F10; (ii) PDF, JPG e PNG

**37.** No que diz respeito ao hardware dos microcomputadores e notebooks, os dispositivos utilizados na entrada e na saída de dados são enquadrados em três categorias, descritas a seguir.

- I. São usados exclusivamente na entrada, na obtenção dos dados submetidos ao processamento.
- II. São usados exclusivamente na saída, para exibir os resultados processados.
- III. Podem ser usados tanto na entrada quanto na saída, dependendo do momento em que são empregados.

Três exemplos desses dispositivos, um para cada categoria acima, são, respectivamente:

- A) scanner, teclado e plotter
- B) pendrive, mouse e scanner
- C) teclado, plotter e pendrive
- D) mouse, scanner e teclado
- E) plotter, pendrive e mouse

38. As planilhas MAR1 e MAR2, exibidas nas figuras (a) e (b) abaixo, pertencem a um mesmo arquivo, PLAN.XLSX, criado no Excel 2019 BR (x64).

(a)

(b)

- Na planilha MAR1, em D6 foi inserida uma expressão que determina o maior valor entre os números mostrados nas células A2, A3 e A4, por meio do uso da função MAIOR.
- Para finalizar, o valor mostrado em D6 da planilha MAR1 foi transportado para C3 de MAR2, por meio de uma expressão válida no Excel.

Nessas condições, as expressões inseridas em D6 de MAR1 e C3 de MAR2 são, respectivamente:

- A) =MAIOR(A2:A4) e =MAR1!\$D6
- B) =MAIOR(A2:A4) e =MAR1!D6
- C) =MAIOR(A2:A4;1) e =MAR1!&D6
- D) =MAIOR(A2:A4;1) e =MAR1!D6
- E) =MAIOR(A2:A4;1) e =MAR1!\$D6

39. Em um microcomputador com o sistema operacional Windows 10 ou 11 BR, dois procedimentos foram realizados.

- I. Com a interface do Google Chrome aberta na tela do monitor, foi executado um atalho de teclado que tem por objetivo acessar e ocultar a Área de Trabalho.
- II. Foi acionado um ícone, localizado na Área de Notificação, que tem por significado "Remover Hardware e Ejetar Mídia com Segurança".

O atalho de teclado em I e o ícone em II são, respectivamente:

- A) Tecla do logotipo do Windows + A
- B) Tecla do logotipo do Windows + A
- C) Tecla do logotipo do Windows + K
- D) Tecla do logotipo do Windows + D
- E) Tecla do logotipo do Windows + D

40. No que diz respeito ao uso dos recursos dos editores de textos,

- I. No Word 2019 BR, um ícone deve ser acionado para diminuir o recuo, ou seja, para mover um parágrafo para mais perto da margem.
- II. No Writer, software do pacote Libre Office 7.3.2.2 (x64) em português, um atalho de teclado corresponde ao acionamento do ícone , que tem por objetivo aplicar alinhamento centralizado.

O ícone em I e o atalho de teclado em II são, respectivamente:

- A) e Ctrl + E
- B) e Ctrl + C
- C) e Ctrl + N
- D) e Ctrl + C
- E) e Ctrl + E

### CONHECIMENTOS ESPECÍFICOS

41. Agente de segurança pública presencia a destruição de uma placa de sinalização de trânsito em ação delitiva cometida por um cidadão. Apesar de presenciar a ação, a autoridade policial não realiza qualquer intervenção, ainda que pudesse evitar o resultado antijurídico. No caso, o servidor incorreu em conduta:

- A) omissiva própria
- B) de conivência
- C) comissiva por omissão
- D) de participação negativa
- E) atípica

42. A circunstância em que um funcionário público pratica ato penalmente qualificado ao cumprir ordens, que não lhe pareçam ser dotadas de qualquer ilegalidade de seu superior hierárquico, é causa de:

- A) estrito cumprimento do dever legal
- B) estado de necessidade
- C) exclusão da punibilidade
- D) exclusão da culpabilidade
- E) exclusão da ilicitude

43. No crime de extorsão, a vítima é coagida pelo autor do crime a fazer, tolerar que se faça ou deixar fazer alguma coisa, com o objetivo de obter uma vantagem econômica indevida. Assinale a alternativa que apresenta uma característica desse tipo penal:

- A) A vantagem indevida é obtida por meio de uma subtração da coisa pretendida.
- B) A colaboração da vítima é dispensável.
- C) A vantagem buscada é para fruição imediata.
- D) Se a vítima não quiser fazer a coisa, não tem como o agente fazer sozinho.
- E) A vantagem econômica indevida somente pode ser um bem móvel.

**44.** O deslocamento do servidor, para acompanhar cônjuge ou companheiro, também servidor público civil, que foi deslocado por interesse da Administração, é um direito legalmente assegurado. Essa situação é denominada como:

- A) substituição
- B) readaptação
- C) aproveitamento
- D) remoção
- E) redistribuição

**45.** Tício andava em via pública e foi abordado por Marcos, que, portando um revólver, anunciou assalto e tomou para si o celular, relógio e carteira da vítima. Poucos minutos depois, o assaltante subiu em uma moto e fugiu. Após chegar ao seu destino, o agente desceu do veículo e foi abordado por autoridade policial. Ao ser questionado sobre a arma de fogo e os bens subtraídos, ele confessou a prática do roubo. O crime foi consumado no momento em que:

- A) ocorreu a confissão
- B) os bens subtraídos passaram para o poder do agente
- C) o assalto foi anunciado
- D) os bens estavam sendo transportados no veículo
- E) o agente chegou ao seu destino

**46.** Uma pessoa praticou um crime em maio de 2012, quando a pena prevista de forma abstrata era de 3 a 6 anos. Em 2014, o legislador reduziu a pena do crime, que foi fixada no mínimo de 2 e no máximo de 3 anos. Em 2015, nova lei alterou a pena do mesmo crime, que passou a prever o mínimo de 4 e o máximo de 6 anos. Caio foi julgado e condenado em primeiro grau em 2016, ocorrendo o trânsito em julgado da sentença condenatória em 2017. Nesse caso, o condenado será apenado com a pena em vigor no ano de:

- A) 2012
- B) 2014
- C) 2015
- D) 2016
- E) 2017

**47.** Em sua obra *Direito administrativo brasileiro*, Hely Lopes Meirelles define ato administrativo como “toda manifestação unilateral de vontade da Administração Pública que, agindo nessa qualidade, tenha por fim imediato adquirir, resguardar, transferir, modificar, extinguir e declarar direitos, ou impor obrigações aos administrados ou a si própria” (MEIRELLES, 2006, p. 149). Entende-se como um dos atributos do ato administrativo:

- A) forma
- B) finalidade
- C) sujeito competente
- D) autoexecutoriedade
- E) objeto

**48.** Com relação à aplicação da lei penal, considera-se praticado o crime no lugar em que ocorreu a ação ou omissão, no todo ou em parte, bem como onde se produziu ou deveria ter sido produzido o resultado. Para efeito de análise sobre o local do crime, o direito brasileiro adota a teoria da:

- A) atividade
- B) teleologia
- C) finalidade
- D) ubiquidade
- E) naturalidade

**49.** Caio utilizou um bastão de ferro para acertar golpes no crânio de Rui, com a intenção de matá-lo. Após perder a consciência, Rui é levado para o hospital ainda com vida. No trajeto, Léo, motorista da ambulância que o transportava, perdeu a direção do veículo após avançar o sinal vermelho, colidindo com uma árvore. Rui veio a óbito em função da colisão. Foi constatado que Léo estava alcoolizado no instante do acidente. Nessa situação, é correto afirmar, à luz do Direito, que:

- A) Caio deve responder por tentativa de homicídio, e Léo deve responder por homicídio doloso
- B) Caio e Léo devem responder por homicídio doloso
- C) Caio deve responder por tentativa de homicídio, e Léo deve responder por homicídio culposo
- D) Caio não deve responder por crime algum, e Léo deve responder por homicídio doloso
- E) Caio deve responder por crime de lesão corporal seguida de morte, e Léo deve responder por homicídio culposo

**50.** A teoria dos três poderes foi concebida com o intuito de distribuir as funções do Estado entre o Executivo, o Legislativo e o Judiciário. A divisão de poderes é feita por meio da atribuição de cada uma das funções governamentais, em que compete tipicamente ao Legislativo criar leis; ao Executivo, administrar; ao Judiciário, julgar. É função ATÍPICA do Poder Legislativo:

- A) criar decretos autônomos
- B) editar medidas provisórias
- C) julgar crimes de responsabilidade
- D) apresentar projeto de lei ordinária
- E) apresentar projeto de lei complementar

**51.** De acordo com a Constituição, a investidura em cargo ou emprego público depende de aprovação prévia em concurso público de provas ou de provas e títulos. Contudo, em determinadas situações, são estabelecidas ressalvas a essa regra. Nesse sentido, o ato normativo, na esfera estadual, que dispõe sobre contratação por tempo determinado de servidores sem concurso público:

- A) é ato de improbidade administrativa
- B) apenas pode contemplar cargos em comissão
- C) deve ter o objetivo de atender uma necessidade transitória
- D) deve observar a norma geral que regula a contratação de servidores temporários editada pela União
- E) pode prever a prorrogação de prazos de contratação sem prazo definido

**52.** O poder executivo municipal tem como atribuição cuidar da administração e comandar os serviços públicos do município, tendo como chefe o prefeito. Para se candidatar ao cargo, é preciso:

- A) ter, pelo menos, 18 anos de idade na data da posse
- B) ser brasileiro nato
- C) ter domicílio eleitoral no município onde pretende se candidatar há pelo menos 1 ano
- D) ter concluído o Ensino Médio
- E) estar em pleno exercício dos direitos políticos

**53.** A constituição é a lei fundamental de uma nação, sendo composta por normas que dispõem sobre a formação dos poderes públicos, forma de governo, distribuição das competências, direitos e deveres dos cidadãos, entre outros temas. No que se refere ao conceito de Constituição, é possível identificar diferentes perspectivas. A ideia de que a Constituição é norma jurídica pura, sem qualquer consideração de cunho sociológico, político ou filosófico, está de acordo com o sentido:

- A) jurídico
- B) político
- C) cultural
- D) lógico
- E) jusnaturalista

**54.** A Defensoria Pública desempenha uma função essencial à Justiça. Ela é uma instituição que tem por incumbência a orientação jurídica, a promoção dos direitos humanos e a defesa, em todos os graus, judicial e extrajudicial, dos direitos individuais e coletivos. É função constitucionalmente prevista da Defensoria pública:

- A) a defesa do meio ambiente
- B) a defesa da ordem jurídica
- C) a defesa dos direitos individuais indisponíveis
- D) a defesa judicial dos direitos e interesses das populações indígenas
- E) a defesa, em todos os graus, judicial e extrajudicial, dos direitos individuais e coletivos, de forma integral e gratuita

**55.** Ao legislador é vedada a criação de leis penais que incidam sobre fatos anteriores à sua vigência, tipificando-os como crimes ou aplicando pena aos agentes. Nesse sentido, é vedada a analogia para:

- A) criar tipos penais incriminadores
- B) interpretar a norma penal
- C) aplicar a escusa absolutória
- D) abrandar as infrações existentes
- E) incluir hipóteses correspondentes às elencadas pelo legislador, ainda que prejudiciais ao agente

**56.** O direito de greve do servidor público é garantido pela Constituinte, sendo que os seus termos e limites devem estar definidos em lei específica. Quanto à eficácia, essa norma se classifica como:

- A) plena
- B) limitada
- C) contida
- D) renovadora
- E) negativa

**57.** Para a concretização dos direitos sociais e individuais previstos na Constituição, é necessária uma atuação positiva do ente governamental. Para que isso ocorra, a interpretação da norma que tenha por objetivo a tutela de um desses direitos deverá privilegiar o sentido que garanta o seu exercício com mais eficiência. Assim, deverá ser aplicado no caso concreto o seguinte princípio de interpretação das normas constitucionais:

- A) princípio da unidade
- B) princípio da harmonização
- C) princípio da máxima efetividade
- D) princípio do efeito integrador
- E) princípio da hierarquia

**58.** A corrupção apresenta-se como uma das mais graves ameaças ao estado democrático de direito. Se corrompidas, as decisões tomadas pelos administradores carecem de legitimidade, pois deixam de objetivar o interesse público. A respeito dos crimes de corrupção ativa e passiva, é correto afirmar que:

- A) no crime de corrupção passiva, é dispensável haver nexo de causalidade entre a conduta do servidor e a realização de ato funcional que está além de sua competência
- B) o crime de corrupção passiva é de mera conduta e se consuma com a solicitação ou aceitação da vantagem indevida
- C) o crime de corrupção ativa é formal e instantâneo, consumando-se com a simples promessa ou oferta de vantagem indevida
- D) há bilateralidade entre os crimes de corrupção passiva e ativa, uma vez que, embora estejam previstos em tipos penais distintos, são dependentes e a comprovação de um deles não pressupõe a do outro
- E) o crime de corrupção ativa é praticado apenas por particulares

**59.** Por meio de Emenda Constitucional promulgada pelo Congresso Nacional, foi criada a Polícia Penal, órgão responsável pela segurança do sistema prisional federal, estadual e do Distrito Federal. A propositura dessa lei compete ao poder constituinte:

- A) originário
- B) instituído
- C) difuso
- D) supranacional
- E) participativo

**60.** Um sujeito utilizou uma nota falsa de R\$100 (cem reais) para realizar uma compra em estabelecimento comercial. Descoberta a farsa, o gerente da loja decidiu realizar o boletim de ocorrência. Todavia, antes de se dirigir à delegacia, o agente entrou em contato com a loja e ressarciu o credor pelo prejuízo causado. O caso ilustra hipótese de:

- A) arrependimento posterior
- B) crime de bagatela
- C) desistência voluntária
- D) crime contra o patrimônio
- E) delito contra a fé pública

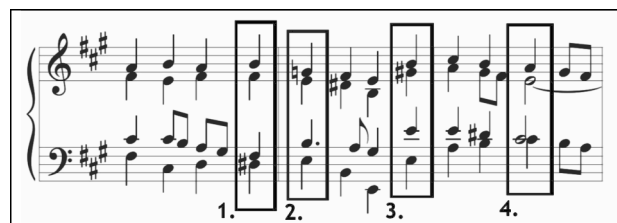
**61.** Assinale a alternativa a seguir que apresenta a afirmativa correta quanto à conceituação das propriedades do som:

- A) altura é compreendida como a característica de um som que nos faz perceber se ele é rápido ou lento
- B) consonância é o que nos permite identificar se um som se adapta bem a outro
- C) duração é o parâmetro da produção sonora que nos permite determinar se um som demora mais ou menos que outro
- D) intensidade pode ser entendida como a dimensão de um som, que nos causa a sensação de rugoso e liso
- E) timbre é o que nos permite identificar a localização de uma fonte sonora

**62.** A nota abaixo, considerada uma enarmonia da nota Fá, é:

- A) Mi bemol
- B) Fá bemol
- C) Mi sustenido
- D) Sol bequadro
- E) Sol dobrado sustenido

**63.** Observe o exemplo musical abaixo e assinale a alternativa correta em relação à descrição e à classificação dos acordes anotados de 1 a 4:



- A) 1. Ré # diminuto estado fundamental; 2. Mi menor segunda inversão; 3. Mi maior estado fundamental; 4. Lá maior estado fundamental
- B) 1. Fá # menor primeira inversão; 2. Si menor segunda inversão; 3. Si maior segunda inversão; 4. Mi menor segunda inversão
- C) 1. Ré # menor estado fundamental; 2. Sol maior segunda inversão; 3. Mi maior estado fundamental; 4. Dó # menor estado fundamental
- D) 1. Si maior primeira inversão; 2. Mi menor estado fundamental; 3. Mi maior estado fundamental; 4. Lá maior primeira inversão
- E) 1. Si maior segunda inversão; 2. Mi menor primeira inversão; 3. Mi maior segunda inversão; 4. Lá maior estado fundamental

64. As notas corretas da escala de Sol menor harmônica são

- A) Sol, Lá, Si bemol, Dó, Ré, Mi bemol, Fá sustenido
- B) Sol, Lá, Si bemol, Dó, Ré, Mi bequadro, Fá sustenido
- C) Sol, Lá, Si, Dó, Ré, Mi, Fá sustenido
- D) Sol, Lá bemol, Si bemol, Dó, Ré bemol, Mi bemol, Fá
- E) Sol, Lá, Si bemol, Dó, Ré, Mi bemol, Fá

65. De acordo com o trecho musical abaixo, escolha a alternativa que indique os valores que faltam para completar os três compassos:



- A) semicolcheia pontuada, semínima, semibreve
- B) colcheia, semínima, mínima
- C) colcheia, semínima, mínima pontuada
- D) colcheia pontuada, semínima pontuada, mínima pontuada
- E) semínima, colcheia, mínima pontuada

66. As abreviaturas *div.*, *sim.* e *rit.* significam, respectivamente:

- A) diversificar a articulação, manter o ritmo simétrico, repetir o trecho
- B) dividir o naipe em várias vozes, continuar a indicação semelhante à anterior, diminuir o andamento
- C) dividir o naipe em várias vozes, continuar a indicação semelhante à anterior, repetir o trecho
- D) diversificar a articulação, continuar a indicação semelhante à anterior, repetir o trecho
- E) dividir o naipe em várias vozes, manter o ritmo simétrico, diminuir o andamento

67. Considerando-se a série harmônica de um som gerador ou som fundamental na altura Sol 1, assinale a alternativa incorreta a seguir:

- A) o segundo harmônico ou segunda parcial é equivalente à nota Ré 2
- B) o quarto harmônico ou quarta parcial é equivalente à nota Si 3
- C) o terceiro harmônico ou terceira parcial é equivalente à nota Sol 3
- D) o primeiro harmônico ou primeira parcial é equivalente à nota Ré 2
- E) o primeiro harmônico ou primeira parcial é equivalente à nota Sol 2

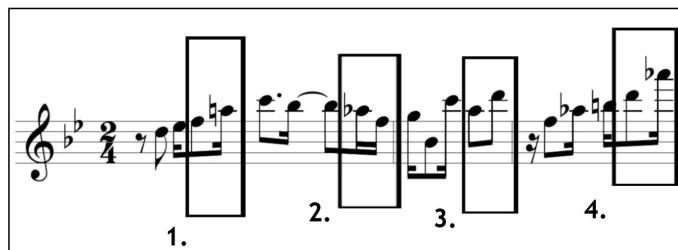
68. Em relação à tonalidade Fá menor, podem ser considerados tons vizinhos:

- A) Lá maior, Mi maior, Dó sustenido menor, Ré maior, Si menor
- B) Lá bemol maior, Mi bemol maior, Dó menor, Ré bemol maior, Si Bemol menor
- C) Lá bemol maior, Mi bemol menor, Dó maior, Ré bemol menor, Si Bemol maior
- D) Dó maior, Sol maior, Mi menor, Fá maior, Ré menor
- E) Ré menor, Lá bemol maior, Mi bemol menor, Sol maior, Mi menor

69. Os compassos mistos podem ser definidos como a reunião de compassos:

- A) diferentes, executados alternadamente
- B) semelhantes, executados simultaneamente
- C) diferentes, executados constantemente
- D) diferentes, executados simultaneamente
- E) semelhantes, executados intermitentemente

70. Considerando-se os intervalos assinalados no trecho musical abaixo, assinale a afirmativa correta se todos os intervalos fossem invertidos:




- A) 1. sexta menor descendente; 2. sexta maior ascendente; 3. quinta justa descendente; 4. quarta aumentada descendente
- B) 1. terça maior ascendente; 2. terça menor descendente; 3. quarta justa ascendente; 4. quinta diminuta ascendente
- C) 1. sexta menor ascendente; 2. sexta maior descendente; 3. quinta justa ascendente; 4. quarta aumentada ascendente
- D) 1. terça menor descendente; 2. terça maior ascendente; 3. quarta justa descendente; 4. quinta aumentada descendente
- E) 1. terça menor ascendente; 2. sexta maior descendente; 3. quinta justa ascendente; 4. quarta aumentada ascendente

## CONHECIMENTOS SOCIOCULTURAIS E GEOGRÁFICOS DE SÃO LUÍS-MA

71. Observe a figura abaixo

Tipos de redes de drenagem



(Padrões de drenagem/UFMS)

TRINDADE, Patrícia. Padrões de Drenagem, aula 2, UFMS, 2019.

Disponível em:

[https://www.ufsm.br/app/uploads/sites/676/2019/08/aula2\\_padroes\\_de\\_drenagem.pdf](https://www.ufsm.br/app/uploads/sites/676/2019/08/aula2_padroes_de_drenagem.pdf)

A Ilha de São Luís abriga um conjunto de pequenas bacias hidrográficas com rede de drenagem dendrítica, com rios que desembocam em estuários com manguezais.

(Leitura Urbana, São Luís. Revisão da Lei Zoneamento, Parcelamento, Uso e Ocupação do Solo, 2014)

Esse tipo de rede de drenagem apresenta rios que:

- A) são semelhantes a anéis
- B) são dispostos como os raios de uma roda
- C) fluem de modo semelhante a galhos de árvores
- D) correm paralelamente
- E) fluem predominantemente de forma retilínea

**72.** “No Dia Mundial da Água, o G1 Maranhão ouviu pesquisadores sobre o cenário dos recursos hídricos no estado. Situação é preocupante, mas ainda há como reverter”.

(G1, São Luís/MA, 2022. Disponível em <https://g1.globo.com/ma/maranhao/noticia/2022/03/22/maranhao-possui- apenas-30percent-de-agua-potavel-na-natureza-dizem-especialistas-e-situacao-pode-piorar.ghtml>, acesso em 03/08/22)

Dentre os fatores responsáveis pela poluição ou degradação dos recursos hídricos, pode-se citar:

- A) a recuperação das matas ciliares ao longo dos cursos dos rios
- B) o descarte de forma irregular de sacolas e embalagens plásticas
- C) o incentivo a políticas públicas direcionadas à promoção da Educação Ambiental
- D) o aumento dos investimentos em estações de coleta e tratamento de esgoto
- E) o incentivo à coleta seletiva do lixo urbano

**73.** Sobre a dinâmica climática da cidade de São Luís (MA), pode-se afirmar que:

- A) a perpendicularidade dos raios solares faz predominar as baixas temperaturas ao longo do ano
- B) há o predomínio dos ciclos sazonais das estações climáticas de primavera, verão, outono e inverno, de forma bem definida
- C) parte da ocorrência das chuvas se deve a sistemas convectivos
- D) por estar localizada geograficamente em alta latitude e no interior do continente, a cidade de São Luís sofre forte influência da continentalidade
- E) na maior parte do ano, apresenta estações secas e frias, com frio rigoroso

**74.** Com a promulgação da Lei 1.806, de 06/01/1953, a Amazônia Brasileira passou a ser chamada de Amazônia Legal. Sua área é delimitada em consonância com o Art. 2º da Lei Complementar nº 124, de 03/01/2007. Segundo dados do IBGE de 2021, dos 217 municípios maranhenses, 181 fazem parte dela, inclusive São Luís.

A criação dessa região de planejamento, com seus limites estendidos ao longo dos anos, tem como objetivo:

- A) proibir a expansão da fronteira agrícola e incentivar a expropriação das terras indígenas
- B) definir a delimitação geográfica da região política de atuação da SUDAM
- C) desenvolver somente as áreas de ocorrência da Floresta Amazônica na Região Norte do Brasil
- D) incentivar a exploração predatória da biodiversidade da Amazônia Internacional
- E) delimitar o espaço territorial conhecido como “Polígono das Secas”

**75.** Inaugurada em 1985, a Estrada de Ferro Carajás não é só grande, ela também lidera o ranking das ferrovias mais eficientes do Brasil.

(VALE. Disponível em Informações sobre a Estrada de Ferro Carajás - Vale, acesso em 19/07/2022).

Trata-se de um aspecto importante da Estrada de Ferro Carajás:

- A) o alto volume de carga transportada entre o Quadrilátero Ferrífero (MG) e o porto de Itaguaí (RJ)
- B) a total integração da Serra dos Carajás (PA) ao Porto de Paranaguá (PR)
- C) o escoamento das riquezas minerais da Serra dos Carajás (PA) pelo Complexo Portuário de São Luís (MA)
- D) o uso exclusivo para o transporte de pessoas entre a Serra de Carajás (PA) e a cidade de João Pessoa (PB)
- E) a integração da cidade de Campo Grande (MS) ao porto de Santos (SP)

**76.** A região de São Luís e Baía de São Marcos faz parte do Complexo Estuarino de São Marcos no Maranhão, um ambiente de interfaces costeiras, fruto da confluência do deságue de rios em um ambiente marinho. Contribui para a formação de um complexo ecossistema, cuja abundância de nutrientes e a temperatura das águas formam um berçário de centenas de espécies marinhas, especialmente de caranguejos, moluscos e peixes. Por esse motivo, representa uma importante fonte de alimentos e renda para as famílias que vivem em comunidades tradicionais na zona costeira.

(Adaptado. Atlas das Representações Literárias de Regiões Brasileiras, Volume 4, IBGE, 2021)

Esse complexo ecossistema denomina-se:

- A) Caatinga
- B) Manguezal
- C) Mata Atlântica
- D) Floresta Amazônica
- E) Mata dos Cocais

**77.** As tradições ganham evidência por sua força simbólica, sua resistência ao tempo e sua capacidade constante de reinventar-se sem perder a sua essência.

Trata-se de uma tradição presente em muitas cidades da costa maranhense, como São Luís:

- A) a chula
- B) a sardana
- C) o flamenco
- D) a kalinka
- E) o bumba meu boi

**78.** “O município de São Luís é o que concentra a maior atividade de viagens de pessoas e cargas. Dos quatro municípios da Ilha, verifica-se que cerca de 90% da população dos municípios de São José do Ribamar, Paço do Luminar e Raposa têm suas populações com destino diário principal ao município de São Luís, principalmente pelo motivo de trabalho”.

(Leitura Urbana, São Luís. Revisão da Lei Zoneamento, Parcelamento, Uso e Ocupação do Solo, 2014)

O tipo de movimento populacional descrito acima denomina-se:

- A) movimento pendular
- B) movimento sazonal
- C) êxodo rural
- D) migração forçada
- E) migração de retorno

**79.** O estado do Maranhão apresenta diversidade territorial e ambiental com alta biodiversidade que permeia três tipos de biomas distintos, além das áreas de transição entre eles e as zonas litorâneas.

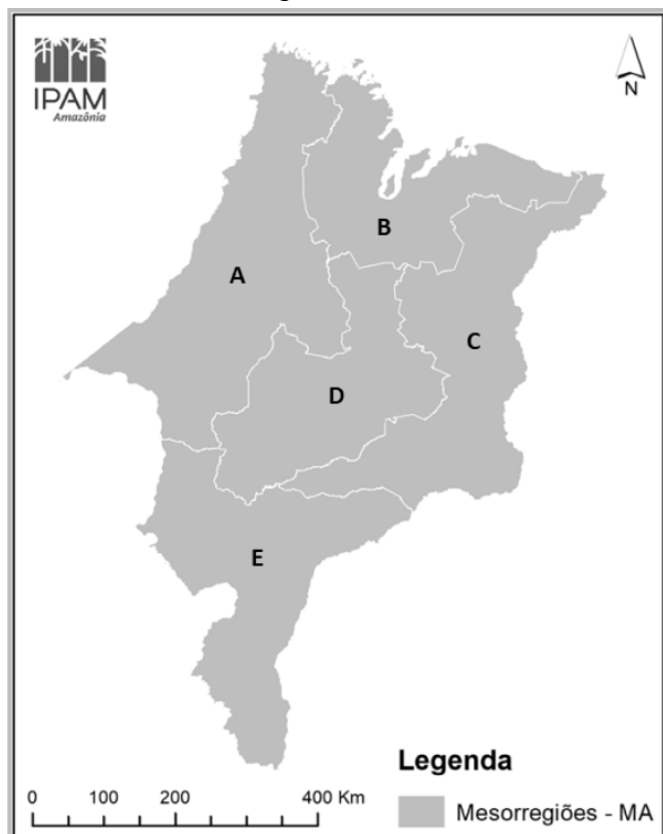
(Diagnóstico socioeconômico, produtivo e ambiental da microrregião de Chapadinha, Maranhão. IPAM, 2021)

Dentre as características do tipo de vegetação do bioma Amazônia, pode-se destacar a predominância:

- A) da araucária, adaptada a climas de temperaturas moderadas e baixas no inverno
- B) de palmeiras, como o babaçu, caracterizando-se como mata de transição
- C) de arbustos espinhosos e a presença da “mata branca” durante a estação seca
- D) de pradarias com gramíneas em campos limpos e baixa biodiversidade
- E) de uma vegetação densa, latifoliada, com milhares de espécies de árvores

80. Observe o mapa abaixo.

**Mesorregiões do Maranhão**



O Maranhão é dividido geograficamente em 5 mesorregiões, representadas pelas letras A, B, C, D e E, 21 microrregiões e 217 municípios.

(MONTES, Manuel. Zoneamento Geoambiental do Estado do Maranhão. Diretrizes gerais para a ordenação territorial. Salvador/BA: IBGE, 1997)

De acordo com essa divisão, a cidade de São Luís localiza-se na mesorregião denominada:

- A) Norte Maranhense
- B) Centro Maranhense
- C) Sul Maranhense
- D) Oeste Maranhense
- E) Leste Maranhense

RASCUNHO