



CONCURSO PÚBLICO CÂMARA MUNICIPAL DE LUCAS DO RIO VERDE/MT

EDITAL Nº 001/2022/CMLRV

Vigia e Zelador

Duração: 03h00 (três horas)

Leia atentamente as instruções abaixo:

01 Você recebeu do fiscal o seguinte material:

a) Este caderno, com 50 (cinquenta) questões da Prova Objetiva, sem repetição ou falha, conforme distribuição abaixo:

CONHECIMENTOS BÁSICOS
1 a 50

b) Um Cartão de Respostas destinado às respostas das questões objetivas.

- 02 Verifique se este material está em ordem e se o seu nome e número de inscrição conferem com os que aparecem no Cartão de Respostas. Caso contrário, notifique imediatamente o fiscal.
- 03 Após a conferência, o candidato deverá assinar no espaço próprio do Cartão de Respostas, com caneta esferográfica de tinta na cor azul ou preta.
- 04 No Cartão de Respostas, a marcação da alternativa correta deve ser feita cobrindo a letra correspondente ao número da questão e preenchendo todo o espaço interno, com caneta esferográfica de tinta na cor azul ou preta, de forma contínua e densa.

Exemplo: A B C D

- 05 Para cada uma das questões objetivas, são apresentadas 4 (quatro) alternativas classificadas com as letras (A, B, C e D), mas só uma responde adequadamente à questão proposta. Você só deve assinalar uma alternativa. A marcação em mais de uma alternativa anula a questão, mesmo que uma das respostas esteja correta.
- 06 Somente depois de decorrida 01 (uma) hora do início da prova, o candidato poderá entregar seu Cartão de Respostas, seu Caderno de Questões e retirar-se da sala de prova. O candidato que insistir em sair da sala de prova, descumprindo o aqui disposto, deverá assinar o Termo de Ocorrência declarando sua desistência do Concurso, que será lavrado pelo Coordenador do Local.
- 07 Ao candidato, será permitido levar seu CADERNO DE QUESTÕES a partir de 01 (uma) hora para o término da prova e desde que permaneça em sala até esse momento.
- 08 Não será permitida a cópia de gabarito no local de prova. Ao terminar a prova de Conhecimentos, o candidato entregará, obrigatoriamente, ao fiscal de sala, o seu CARTÃO DE RESPOSTAS e o seu CADERNO DE QUESTÕES, ressalvado o estabelecido no item 7.
- 09 Reserve os 30 (trinta) minutos finais para marcar seu Cartão de Respostas. Os rascunhos e as marcações assinaladas no Caderno de Questões não serão levados em consideração.
- 10 Os 3 (três) últimos candidatos permanecerão sentados até que todos concluem a prova ou que termine o seu tempo de duração, devendo assinar a ata de sala e retirar-se juntos.

CONHECIMENTOS BÁSICOS

LÍNGUA PORTUGUESA

TEXTO I

Ação no Largo da Carioca oferece serviços e marca o Dia Nacional de Luta da População em Situação de Rua

Pessoas puderam emitir documentos, cuidar da saúde e buscar um lugar no mercado de trabalho

Rio - O Dia Nacional de Luta da População em Situação de Rua, nesta sexta-feira (19), é marcado pela memória do Massacre da Sé, em São Paulo, que completou 18 anos em meio a mortes invisíveis da população de rua. Fruto de movimentos sociais, a data propõe reflexão sobre a responsabilidade social por essa população, inclusive quanto à atenção à saúde. No Rio, com apoio da Secretaria Municipal de Saúde (SMS-Rio), o Consultório na Rua (CNAR) se espalhou por lugares estratégicos do município do Rio, e conta atualmente com nove equipes que atuam em 55 bairros de todas as áreas da cidade. E hoje, a ação se concentrou no Largo da Carioca, no Centro do Rio, com serviços diversos como distribuição de alimentos e oferta de empregos.

Para Fabiana Antunes, enfermeira que hoje atua como gerente técnica do CNAR no município, os espaços urbanos são uma extensão do consultório.

"O trabalho itinerante de acompanhamento feito pelas equipes é fundamental para ofertar o cuidado integral à população em situação de rua, identificando suas necessidades e buscando construir uma atenção compartilhada e em rede, combatendo estigmas que reduzem essas pessoas à margem da sociedade. O objetivo do CNAR é promover amplo acolhimento e a redução de danos desse grupo populacional, que se encontra em condições de vulnerabilidade e com os vínculos familiares interrompidos ou fragilizados. A equidade é um dever cívico e a promoção, proteção e recuperação da saúde são as bases fundamentais do CNAR", explica Fabiana.

Uma equipe composta por médico, enfermeiro, técnico de enfermagem, agente social, psicólogo e assistente social atenderam a população no Largo da Carioca. Aliado à saúde, o lado cidadão também esteve presente na ação. Cristiane Xavier, defensora pública do núcleo dos direitos humanos da defensoria, contou que as pessoas em situação de rua podem ter acesso à emissão de documentos básicos para identificação, acesso a serviços públicos e a benefícios, como o Auxílio Brasil.

"É importante que olhemos para essa população tão vulnerável. São pessoas que, apesar de sua situação, têm os mesmos benefícios que qualquer outro cidadão. São brasileiros que tiveram o vínculo familiar rompido ou estão desempregados e não têm condições de arcar com um aluguel, sobretudo no atual custo de vida. O que fazemos aqui, de certa forma, é tentar, através das nossas ações, reinseri-los na sociedade civil", disse Cristiane.

Também estavam presentes Cláudia Poggio e Juliana Telles, participante e idealizadora, respectivamente, da ONG *A Nova Chance*, que também colaboram na emissão de documentos, como segunda via de certidão, identidade e no auxílio em questões que podem ser facilitadas com a posse de documentos.

"Para as pessoas que, eventualmente, não são do Rio e desejam voltar para suas cidades, nós buscamos ajudar. Como também auxílio na procura de um emprego. Em síntese, fazemos tudo aquilo que está ao nosso alcance através da documentação", explicou Cláudia.

[...]

Fonte: <https://odia.ig.com.br/rio-de-janeiro/2022/08/6468211-acao-no-largo-da-carioca-oferece-servicos-e-marca-o-dia-nacional-de-luta-da-populacao-em-situacao-de-rua.html>. Adaptado. Acesso em 20 de agosto de 2022.

1. O objetivo principal do texto é:

- A) elogiar a ação desenvolvida por entidades e por cidadãos em prol dos mais vulneráveis
- B) denunciar a falta de distribuição de alimentos e o desemprego que atingem os mais pobres
- C) destacar, no Rio de Janeiro, os serviços oferecidos no Dia Nacional de Luta da População em Situação de Rua
- D) criticar a situação política vivida no país, que leva milhares de pessoas a morar nas ruas das grandes cidades

2. "O Dia Nacional de Luta da População em Situação de Rua, nesta sexta-feira (19), é marcado pela **memória** do Massacre da Sé, em São Paulo" (1º parágrafo). A palavra destacada pode ter vários sentidos. No texto, significa:

- A) dispositivo de computador
- B) monumento comemorativo
- C) capacidade de armazenar informações
- D) lembrança de um fato ou acontecimento

3. No trecho "em meio a mortes **invisíveis** da população de rua" (1º parágrafo), a palavra destacada tem sentido:

- A) denotativo e significa que as mortes não são percebidas pelos olhos físicos
- B) denotativo e significa que as mortes não despertam a preocupação que deveriam
- C) conotativo e significa que as mortes não são percebidas pelos olhos físicos
- D) conotativo e significa que as mortes não despertam a preocupação que deveriam

4. No trecho "E hoje, a ação se concentrou no Largo da Carioca, no Centro do Rio, com serviços diversos como distribuição de alimentos e **oferta** de empregos." (1º parágrafo). A palavra destacada é um exemplo de:

- A) substantivo
- B) adjetivo
- C) pronome
- D) verbo

5. "A equidade é um dever cívico e a promoção, proteção e recuperação da saúde são as bases fundamentais do CNAR" (3º parágrafo). No texto, esse trecho é um exemplo de:

- A) discurso direto, pois reproduz as palavras de uma pessoa por meio de um narrador
- B) discurso direto, pois reproduz as palavras exatas de uma determinada pessoa
- C) discurso indireto, pois reproduz as palavras de uma pessoa por meio de um narrador
- D) discurso indireto, pois reproduz as palavras exatas de uma determinada pessoa

6. "O objetivo do CNAR é promover amplo acolhimento e a redução de danos desse grupo populacional, **que** se encontra em condições de vulnerabilidade e com os vínculos familiares interrompidos ou fragilizados" (3º parágrafo). Nesse trecho, o pronome destacado faz referência a:

- A) objetivo do CNAR
- B) amplo acolhimento
- C) redução de danos
- D) grupo populacional

7. “O que fazemos aqui, de certa forma, é tentar, através das nossas ações, **reinseri-los** na sociedade civil”, disse Cristiane” (5º parágrafo). Em conformidade com o texto, uma possível substituição do termo destacado seria:

- A) reinserir as ações
- B) reinserir as pessoas
- C) reinserir os brasileiros
- D) reinserir os desempregados

8. “É importante que **olhemos** para essa população tão vulnerável” (5º parágrafo). O verbo destacado está no mesmo tempo e modo de:

- A) Sempre **olhamos** a população mais vulnerável.
- B) Querem que **partamos** amanhã.
- C) Nós **trouxemos** presentes para todos.
- D) Seria importante que **partíssemos** bem cedo.

9. “São brasileiros que tiveram o vínculo familiar rompido ou estão desempregados e não têm condições de arcar com um aluguel, **sobretudo** no atual custo de vida” (5º parágrafo). A palavra destacada poderia ser substituída, sem prejuízo de sentido por:

- A) raramente
- B) principalmente
- C) exclusivamente
- D) tradicionalmente

10. “São pessoas que, **apesar de** sua situação, têm os mesmos benefícios que qualquer outro cidadão” (5º parágrafo). Nesse trecho, o elemento destacado indica a ideia de:

- A) causa
- B) condição
- C) concessão
- D) consequência

TEXTO II

Caminhando e cantando e seguindo a canção
Somos todos iguais, braços dados ou não
Nas escolas, nas ruas, campos, construções
Caminhando e cantando e seguindo a canção

Refrão

*Vem, vamos embora, que esperar não é saber
Quem sabe faz a hora, não espera acontecer
Vem, vamos embora, que esperar não é saber
Quem sabe faz a hora, não espera acontecer*

Pelos campos há fome em grandes plantações
Pelas ruas marchando indecisos cordões
Ainda fazem da flor seu mais forte refrão
E acreditam nas flores vencendo o canhão

Há soldados armados, amados ou não
Quase todos perdidos, de armas na mão
Nos quartéis lhes ensinam uma antiga lição
De morrer pela pátria e viver sem razão

Fonte: Pra não dizer que não falei das flores, Geraldo Vandré. Fonte: <https://www.lettras.mus.br/geraldo-vandre/46168/>. Adaptado. Acesso em 20 de agosto de 2022.

11. O texto II é parte de uma famosa letra de música. O seu objetivo principal é:

- A) indicar a necessidade de darmos os braços nas ruas e nas instituições
- B) motivar o povo à luta por liberdade e por condições de vida mais dignas
- C) exaltar as flores que vencem os canhões nas diversas batalhas e guerras
- D) denunciar a fome que assola o país, apesar da grande produção de alimentos

12. “Caminhando **e** cantando e seguindo a canção / Somos todos iguais, braços dados **ou** não” (1ª estrofe). Nesse trecho, as duas conjunções destacadas indicam respectivamente as ideias de:

- A) adição e contraste
- B) adição e alternância
- C) alternância e adição
- D) contraste e explicação

13. “E **acreditam** nas flores vencendo o canhão” (2ª estrofe). O verbo destacado está conjugado no:

- A) presente do indicativo
- B) presente do subjuntivo
- C) pretérito imperfeito do indicativo
- D) pretérito imperfeito do subjuntivo

14. “Nos quartéis **lhes** ensinam uma antiga lição” (3ª estrofe). Em conformidade com o texto, o pronome destacado poderia ser substituído por:

- A) às armas
- B) às plantações
- C) aos soldados
- D) aos cordões

15. “Quem sabe faz a hora, não espera acontecer” (Refrão). Essa expressão significa que:

- A) é necessário haver paciência para que as situações se resolvam
- B) devemos agir rapidamente, sem esperar o acaso ou a ação dos outros
- C) precisamos nos orientar pelas horas do relógio, em horas e minutos
- D) não é prudente agir sem auxílio dos outros diante de situações difíceis

16. “Somos todos iguais, braços **dados** ou não” (1º parágrafo). A palavra “dados” forma um par de homônimos com o termo destacado em:

- A) Os **dados** estão sobre a mesa.
- B) Os informes foram **dados** na reunião.
- C) Os braços **entrelaçados** são mais fortes.
- D) Os presentes foram **doados** aos mais pobres.

TEXTO III

*Foi Monteiro Lobato
Um mestre de fato da literatura infantil
Histórias escritas com arte
E de todas as partes contou no Brasil
O sítio não tem fronteiras
Abrindo as porteiras pra imaginação
Dona Benta recebe encantada
O povo dos contos de fadas
Numa delirante confusão*

Fonte: Samba Enredo 2005 da GRES Imperatriz Leopoldinense (trecho). Disponível em <http://www.apoteose.com/siteantigo/imperatriz/samba2005.htm>. Acesso em 20 de agosto de 2022.

17. Nesse trecho, há referência a um importante autor da literatura brasileira, que é Monteiro Lobato, autor de uma obra célebre denominada “Sítio do Pica-Pau Amarelo”. Ao citar esses elementos no texto, a letra do samba enredo indica o uso do mecanismo da:

- A) intertextualidade
- B) argumentação
- C) polissemia
- D) paronímia

18. “O sítio não tem fronteiras”. De acordo com a norma-padrão, no plural, essa frase seria:

- A) Os sítios não tem fronteiras.
- B) Os sítios não têm fronteiras.
- C) Os sítios não teem fronteiras.
- D) Os sítios não têm fronteiras.

19. “Foi Monteiro Lobato / Um mestre de fato da literatura infantil”. O elemento destacado é a forma, no passado, do verbo:

- A) ir
- B) ser
- C) ficar
- D) estar

20. “**Abrindo** as porteiras pra imaginação”. A forma verbo-nominal destacada serve para indicar ação em processo, algo que está acontecendo, em curso. Essa é a função do:

- A) imperativo
- B) particípio
- C) infinitivo
- D) gerúndio

MATEMÁTICA

21. Um zelador realizou uma tarefa em 2 horas e 29 minutos. Se ele a finalizou às 16 horas e 14 minutos, a tarefa foi iniciada às:

- A) 14 horas e 45 minutos
- B) 14 horas e 55 minutos
- C) 13 horas e 45 minutos
- D) 13 horas e 55 minutos

22. Mário pretende colocar N parafusos em 12 caixas, de forma que cada uma receba a mesma quantidade de parafusos e que não sobre nenhum fora das caixas. Se a quantidade de parafusos é maior do que 100 e menor do que 116, a soma dos algarismos de N é:

- A) 8
- B) 9
- C) 10
- D) 11

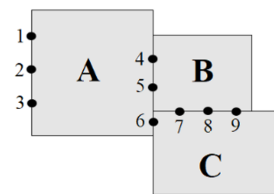
23. Um prédio que possui 12 andares, com 16 salas por andar, será utilizado como local de provas de um concurso público. Considere que todas essas 16 salas serão utilizadas e que em cada uma ficarão dois inspetores. Se o órgão que organiza o concurso tem 412 inspetores disponíveis, essa quantidade é:

- A) insuficiente, pois faltarão 18 inspetores
- B) insuficiente, pois faltarão 28 inspetores
- C) suficiente, pois sobrarão 18 inspetores
- D) suficiente, pois sobrarão 28 inspetores

24. Armando dividiu um cano plástico em 6 partes iguais. Em seguida, dividiu cada uma delas em 4 partes iguais e, para realizar um serviço, utilizou 8 das partes menores obtidas com essas duas divisões. A fração do cano que foi utilizada por Armando para fazer o serviço corresponde a:

- A) 1/4
- B) 3/4
- C) 1/3
- D) 2/3

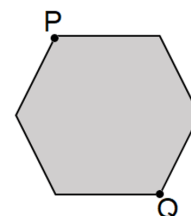
25. O esquema a seguir representa três salas, A, B e C, que se comunicam entre si somente pelas portas representadas pelos pontos 1, 2, 3, 4, 5, 6, 7, 8 e 9.



O número máximo de maneiras diferentes de um vigia entrar na sala A e chegar à sala C, usando essas portas, corresponde a:

- A) 18
- B) 21
- C) 24
- D) 27

26. A imagem a seguir representa um pátio plano que possui a forma de um hexágono regular cujo lado mede 80 metros.



Durante sua ronda diária, um vigia percorre, em linha reta, a distância entre os vértices P e Q, retornando em seguida, também em linha reta, ao ponto P. A distância total percorrida pelo vigilante nesse percurso, em metros, corresponde a:

- A) 300
- B) 320
- C) 340
- D) 360

27. Um terreno retangular de dimensões 40 metros e $(x + 80)$ metros e um quadrado de x metros de lado têm o mesmo perímetro. A soma das áreas desses terrenos, em metros quadrados, corresponde a:

- A) 20 200
- B) 20 400
- C) 22 200
- D) 22 400

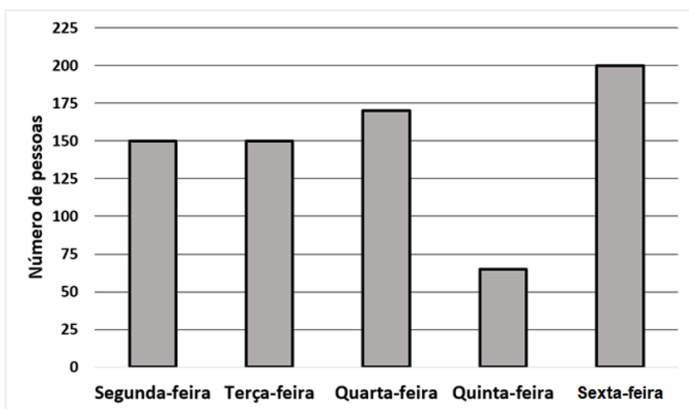
28. A razão entre as capacidades de duas cisternas é igual a $\frac{2}{5}$. Se a capacidade da menor cisterna é de 26 000 litros de água, a capacidade da maior, em litros, é:

- A) 65 000
- B) 68 000
- C) 71 000
- D) 73 000

29. Antônio descobriu um *site* na internet que estima a população de vários países até o ano 2100. Segundo esse *site*, a população brasileira em 2025 será de, aproximadamente, duzentos e dezenove milhões de habitantes. Esse número, quando escrito corretamente, é igual a 219 seguido de exatamente n zeros. O valor de n é:

- A) 4
- B) 5
- C) 6
- D) 7

30. O gráfico a seguir mostra o número de pessoas que entraram em uma repartição pública de segunda a sexta-feira de uma determinada semana.



A quantidade total de pessoas que entrou na repartição nesta semana é um número compreendido entre:

- A) 650 e 700
- B) 700 e 750
- C) 750 e 800
- D) 800 e 850

31. Pedro, ao brincar com uma calculadora, multiplicou o menor número primo compreendido entre 10 e 20 pelo maior número primo compreendido entre 30 e 40, obtendo o resultado x . Em seguida, multiplicou o maior número primo situado entre 10 e 20 pelo menor número primo situado entre 20 e 30, obtendo o resultado y . O valor de $y - x$ é igual a:

- A) 8
- B) 30
- C) 56
- D) 70

32. Mauro usa uma pulseira inteligente, que conta o número de passos que ele dá a cada instante. No último final de semana, ele deu 6300 passos diários, em média. Sabe-se que, no sábado, Mauro deu o triplo de passos que deu no domingo. Assim, o número de passos dados por ele no domingo foi:

- A) 3150
- B) 3250
- C) 3350
- D) 3450

33. Sabe-se que 24% de um grupo de 75 zeladores também exercem outra profissão. O número de zeladores desse grupo que não exercem outra profissão é:

- A) 18
- B) 27
- C) 48
- D) 57

34. Leonardo, Felipe e Tiago trabalharam, respectivamente, 4 horas extras, 7 horas extras e 5 horas extras no último mês. A empresa decidiu repartir entre eles a quantia de 2192 reais em partes diretamente proporcionais às horas extras trabalhadas por cada um. Dessa forma, o valor a ser recebido por Felipe, em reais, corresponde a:

- A) 548
- B) 685
- C) 822
- D) 959

35. Em uma praça, existem dois caminhos para ir do ponto A ao ponto C. Em linha reta, a distância entre A e C é de 60 metros. A outra opção é andar 36 metros, em linha reta, do ponto A até o ponto B, girar 90 graus para a direita e andar mais n metros em linha reta até o ponto C.

O valor de n é igual a:

- A) 24
- B) 40
- C) 48
- D) 54

LEGISLAÇÃO BÁSICA

36. A atuação da administração pública direta e indireta está subordinada às normas previstas na Lei. Nesse sentido, o decoro, a boa-fé e a probidade fundamentam a atuação do servidor público em conformidade com o princípio constitucional da:

- A) informalidade
- B) neutralidade
- C) moralidade
- D) confidencialidade

37. Compete ao Município legislar sobre assuntos de interesse local. Ao dispor sobre determinadas matérias, além da atuação da Câmara Municipal, é necessária a sanção do Prefeito durante o processo legislativo para:

- A) abertura de créditos especiais, suplementares e extraordinários
- B) abertura de créditos suplementares à secretaria da Câmara Municipal
- C) criação de comissões de inquérito referente à administração pública
- D) concessão de honorarias às pessoas que tenham prestado serviços ao Município

38. Na estrutura do quadro de pessoal da Câmara Municipal de Lucas do Rio Verde-MT funciona o Grupo de Apoio Legislativo da Câmara Municipal – GALCM, composto pelos cargos de Analista Legislativo, Técnico Legislativo e Auxiliar Legislativo. O Auxiliar Legislativo tem por atribuição:

- A) dar suporte às Comissões Parlamentares
- B) prestar serviços técnicos na área de programação e análise de sistema
- C) desempenhar a função de recepcionista
- D) realizar a entrega de correspondências

39. Na estrutura da Câmara dos Vereadores de Lucas do Rio Verde, o Plenário é o órgão deliberativo do Poder Legislativo constituído pelo conjunto de Vereadores em exercício, em local, forma e número legal para deliberar. A forma legal para deliberar é chamada de:

- A) assembleia
- B) sessão
- C) legislatura
- D) audiência

40. No desempenho de suas funções, o servidor deve demonstrar estar apto para exercer o cargo público, com base em critérios previamente determinados. A estabilidade no cargo é obtida quando ultrapassado o:

- A) curso preparatório
- B) teste de aptidão
- C) curso de formação
- D) estágio probatório

HISTÓRIA DO MUNICÍPIO DE LUCAS DO RIO VERDE

41. O município de Lucas do Rio Verde tem nas atividades ligadas ao agronegócio o centro de sua economia, mas o incentivo de sua administração no apoio à agricultura familiar também merece destaque. Sobre o Projeto da Agricultura Familiar, que atende pouco mais de 130 famílias, pode-se afirmar que:

- A) essas dezenas de famílias, ao residirem nas áreas urbanas, enfrentam dificuldades de transporte até suas pequenas propriedades rurais
- B) essas famílias adquiriram suas terras pelo Programa do Crédito Fundiário e produzem hortaliças, frutas, leite, ovos, embutidos, entre outros
- C) a falta de integração com outras secretarias dificulta o objetivo central desse projeto, que é aumentar a renda do agricultor familiar
- D) essas famílias, que não se reúnem em associações ou cooperativas, destinam sua produção à merenda escolar do município

42. A administração municipal de Lucas do Rio Verde vem tentando mudar o seu perfil econômico, em que o agronegócio predomina.



Fonte: <https://www.lucasdorioverde.mt.gov.br/site/home>

Dentre as medidas tomadas pelos gestores municipais visando a diversificar sua economia, destacam-se o(a):

- A) instalação dos Distritos Industriais com incentivos fiscais, apesar das dificuldades criadas pelo INCRA (Instituto Nacional de Colonização e Reforma Agrária)
- B) tratamento igual para as grandes, médias e pequenas empresas, haja vista não ter facilitado a aquisição de lotes industriais aos pequenos e médios empresários
- C) permissão para os pequenos e médios empresários, mesmo que não residam no município, de se instalarem nos Distritos Industriais, atraindo investimentos
- D) instalação dos Distritos Industriais e a criação de leis de incentivo fiscal, viabilizando a instalação de inúmeras indústrias, em especial às ligadas ao agronegócio

43. Buscando valorizar a cultura e desenvolver o turismo, a administração municipal de Lucas do Rio Verde patrocina inúmeras atividades a cada ano.



Fonte: <https://www.lucasdorioverde.mt.gov.br/site/home>

Assinale a opção que se relaciona a uma dessas atividades:

- A) Festival de Pesca da cidade, que atrai um grande número de turistas, reúne apenas as equipes da cidade, e é uma realização da prefeitura em parceria com empresas e instituições do município
- B) *November Fest*, que é uma festa que valoriza as comidas típicas da culinária nordestina e de outros grupos étnicos que compõem a sociedade local, e reúne bandas que animam os participantes
- C) Centro de Tradições Gaúchas (CTG), que mantém viva a chama da tradição deste povo e realiza em setembro a Semana Farroupilha, que comemora a história, a cultura e os costumes do povo gaúcho
- D) Show Safra BR 163, realizado pela Fundação Rio Verde e por apoiadores, que acontece todos os anos na segunda quinzena de março e tem por objetivo valorizar a agricultura familiar

44. Faça a leitura do trecho e responda o que se pede:

“Baseando-se no Índice de Desenvolvimento Humano Municipal (IDHM) e no Índice Firjan de Desenvolvimento Municipal (IFDM), Lucas do Rio Verde vem ocupando a primeira posição no ranking do estado de Mato Grosso. (...) No ranking nacional, o município ocupa a 14ª posição”.

(adaptado de: <https://www.lucasdorioverde.mt.gov.br/site/perfil>)

São fatores que contribuem para que a cidade tenha esse desenvolvimento social e econômico de destaque:

- A) uma educação pública de qualidade, gestada pela Secretaria Municipal de Educação, integrando os vários órgãos que compõem o sistema de ensino, como a oferta das práticas esportivas e de lazer
- B) a adoção dos inúmeros programas habitacionais, em parceria com os governos federal e estadual, apesar da ausência do Programa Minha Casa Minha Vida, destinado às famílias de baixa renda
- C) os programas de saúde, incluindo os postos de Saúde da Família (PSFs), as Unidades de Pronto Atendimento (UPAs) e o Hospital privado de São Lucas, mesmo possuindo fins lucrativos
- D) o Serviço Autônomo de Água e Esgoto, responsável pela captação, tratamento e distribuição de água e esgoto na cidade que, em breve, vai incluir as preocupações com o meio ambiente

45. De fundamental importância para o desenvolvimento econômico e social da cidade, a Secretaria Municipal de Transporte de Lucas do Rio Verde desenvolve, de forma integrada com outras secretarias, vários projetos, destacando-se o (a):

- A) Asfaltamento de 100% de suas vias nos bairros e nos loteamentos sem, no entanto, preocupar-se em levar essa pavimentação às estradas intermunicipais e vicinais
- B) Projeto das Agroestradas, que se desenvolve em parceria com os produtores rurais e é responsável pela pavimentação de quilômetros de estradas rurais
- C) Plano de Mobilidade Urbana, que visa a regular o tráfego e os projetos de extensão de suas vias e estradas, com base no crescimento, não incluindo as ciclovias
- D) Ferrovia de Integração do Centro-Oeste (FICO), fundamental para o transporte de cargas e o escoamento da soja e milho para o Porto de Santos, em São Paulo

GEOGRAFIA DO MUNICÍPIO DE LUCAS DO RIO VERDE

46. O município de Lucas do Rio Verde localiza-se na região:

- A) Norte
- B) Sudeste
- C) Nordeste
- D) Centro-Oeste

47. Uma partida de futebol, válida pelo campeonato mato-grossense, ocorreu no dia 31 de agosto de 2022, às 17h, no horário local. Neste exato momento, na cidade do Rio de Janeiro, eram:

- A) 16h
- B) 18h
- C) 19h
- D) 20h

48. A sede municipal de Lucas do Rio Verde tem uma temperatura média anual de 27,7 °C e uma vegetação que varia entre:

- A) Caatinga e Cerrado
- B) Cerrado e Pantanal
- C) Cerrado e Floresta Amazônica
- D) Caatinga e Floresta Amazônica

49. O município de Lucas do Rio Verde se limita, ao Sul, com o município de:

- A) Sorriso
- B) Cuiabá
- C) Nova Mutum
- D) Tapurah

50. O Poder Executivo do município de Lucas do Rio Verde é representado pelo Prefeito, auxiliado pelo seu gabinete de secretários, em conformidade ao modelo proposto pela Constituição Federal. Ele é eleito pelo voto direto para um mandato de:

- A) três anos
- B) quatro anos
- C) cinco anos
- D) oito anos